

ਸੈਂਪਲ ਪੇਪਰ - ਮਾਰਚ 2022 (ਟਰਮ - 2)

ਸਮਾਂ: 2 ਘੰਟੇ

ਜਮਾਤ - ਪੰਜਵੀਂ

ਅੰਕ: 40

ਵਿਸ਼ਾ- ਗਣਿਤ

ਸਾਰੇ ਪ੍ਰਸ਼ਨ ਜ਼ਰੂਰੀ ਹਨ ।

ਭਾਗ ਓ ਵਿੱਚ ਪ੍ਰਸ਼ਨ 1 ਤੋਂ 5 ਤੱਕ ਹਰੇਕ ਪ੍ਰਸ਼ਨ 3 ਅੰਕਾਂ ਦਾ ਹੈ ।

ਭਾਗ ਅ ਵਿੱਚ ਪ੍ਰਸ਼ਨ 6 ਤੋਂ 10 ਤੱਕ ਹਰੇਕ ਪ੍ਰਸ਼ਨ 5 ਅੰਕਾਂ ਦਾ ਹੈ ।

ਭਾਗ - ਓ

(5 X 3= 15)

1. ਖਾਲੀ ਥਾਂ ਭਰੋ :-

ਓ) 2.850 ਕਿ.ਗ੍ਰਾ = _____ ਕਿ.ਗ੍ਰਾ _____ ਗ੍ਰਾਮ

ਅ) 3.45 ਮੀ. = _____ ਮੀ. _____ ਸੈ.ਮੀ.

ੲ) 1 ਲਿਟਰ = _____ ਮਿ.ਲਿ.

2. ਸਹੀ ਕਥਨ ਅੱਗੇ ($\sqrt{\quad}$) ਦਾ ਨਿਸ਼ਾਨ ਅਤੇ ਗਲਤ ਕਥਨ ਅੱਗੇ (\times) ਦਾ ਨਿਸ਼ਾਨ ਲਗਾਓ ।

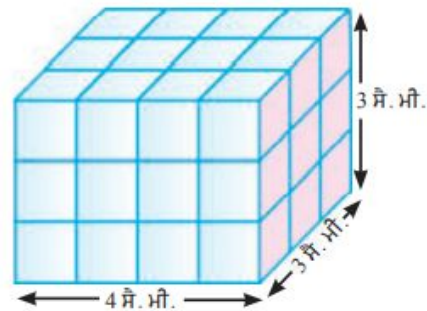
ਓ) ਸਮਕੋਣ ਦਾ ਮਾਪ 90° ਹੁੰਦਾ ਹੈ । (.....)

ਅ) ਸਮਕੋਣ, ਨਿਊਨ ਕੋਣ ਤੋਂ ਵੱਡਾ ਹੁੰਦਾ ਹੈ, ਪਰ ਅਧਿਕ ਕੋਣ ਤੋਂ ਛੋਟਾ ਹੁੰਦਾ ਹੈ । (.....)

ੲ) 175° ਦਾ ਕੋਣ ਨਿਊਨ ਕੋਣ ਹੁੰਦਾ ਹੈ । (.....)

3. ਸੁਰਜੀਤ ਕੋਲ ₹ 20000 ਸਨ । ਉਸਨੇ ₹ 13750 ਦੇ ਕੱਪੜੇ ਖਰੀਦ ਲਏ । ਉਸ ਕੋਲ ਕਿੰਨੀ ਰਕਮ ਬਾਕੀ ਰਹਿ ਗਈ ?

4. ਦਿੱਤੇ ਘਣਾਕ੍ਰਮ ਦਾ ਆਇਤਨ ਪਤਾ ਕਰੋ ।

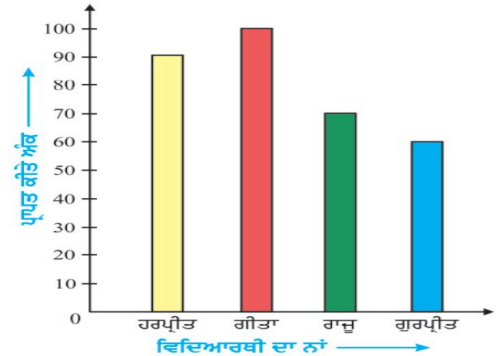


5. ਹੇਠਾਂ ਦਿੱਤਾ ਛਤਰ ਗ੍ਰਾਫ਼ ਹਰਪ੍ਰੀਤ, ਗੀਤਾ, ਰਾਜੂ ਅਤੇ ਗੁਰਪ੍ਰੀਤ ਦੇ ਗਣਿਤ ਵਿਸ਼ੇ ਦੇ ਟੈਸਟ ਵਿੱਚ ਪ੍ਰਾਪਤ ਕੀਤੇ ਅੰਕਾਂ ਨੂੰ ਦਰਸਾ ਰਿਹਾ ਹੈ।

ਇਸ ਨੂੰ ਦੇਖ ਕੇ ਦੱਸੋ ਕਿ

ੳ) ਗੀਤਾ ਅਤੇ ਰਾਜੂ ਨੇ ਕਿੰਨੇ-ਕਿੰਨੇ ਅੰਕ ਪ੍ਰਾਪਤ ਕੀਤੇ? (2)

ਅ) ਗੀਤਾ ਅਤੇ ਰਾਜੂ ਦੁਆਰਾ ਪ੍ਰਾਪਤ ਕੀਤੇ ਅੰਕਾਂ ਦਾ ਅੰਤਰ ਦੱਸੋ। (1)



ਭਾਗ - ਅ

(5 X 5 = 25)

6. ਸਤਨਾਮ ਕੋਲ ₹ 8765 ਸਨ। ਉਸ ਦੇ ਮਾਮਾ ਜੀ ਨੇ ਉਸਨੂੰ ₹ 2500 ਹੋਰ ਦਿੱਤੇ। ਫਿਰ ਸਤਨਾਮ ਨੇ ਆਪਣੇ ਕੁੱਲ ਰੁਪਇਆਂ ਵਿੱਚੋਂ ₹ 4700 ਆਪਣੀ ਛੋਟੀ ਭੈਣ ਨੂੰ ਦੇ ਦਿੱਤੇ। ਹੁਣ ਉਸ ਕੋਲ ਕਿੰਨੇ ਰੁਪਏ ਬਾਕੀ ਰਹਿ ਗਏ?

ਜਾਂ

ਮੈਨੂੰ ₹ 25000 ਦੇ ਖੁੱਲ੍ਹੇ ਚਾਹੀਦੇ ਹਨ। ਮੈਨੂੰ ਹੇਠ ਲਿਖੇ ਕਿੰਨੇ-ਕਿੰਨੇ ਨੋਟ ਮਿਲਣਗੇ ?

ੳ) ₹ 500 ਦੇ ਨੋਟ

ਅ) ₹ 100 ਦੇ ਨੋਟ

7. ਇੱਕ ਬਰਤਨ ਵਿੱਚ 22.75 ਲਿਟਰ ਦੁੱਧ ਆਉਂਦਾ ਹੈ। ਅਜਿਹੇ 8 ਬਰਤਨਾਂ ਵਿੱਚ ਕਿੰਨੇ ਲਿਟਰ ਦੁੱਧ ਆਵੇਗਾ ?

ਜਾਂ

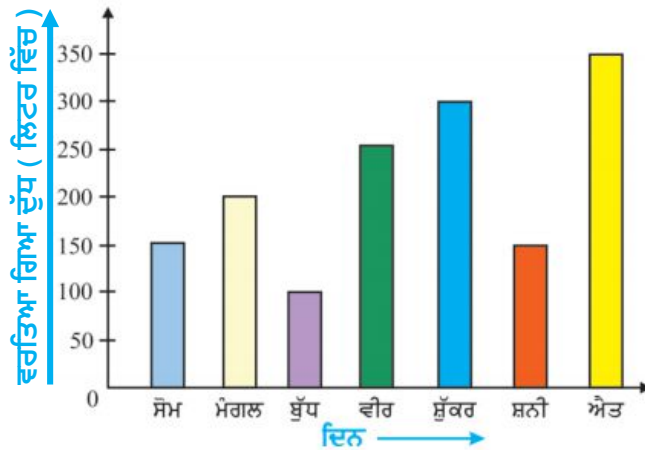
ਚੰਡੀਗੜ੍ਹ ਤੋਂ ਇੱਕ ਬੱਸ ਸਵੇਰੇ 8:30 ਵਜੇ ਚਲਦੀ ਹੈ ਅਤੇ ਦੁਪਹਿਰ 1:30 ਵਜੇ ਦਿੱਲੀ ਪਹੁੰਚ ਜਾਂਦੀ ਹੈ। ਚੰਡੀਗੜ੍ਹ ਤੋਂ ਦਿੱਲੀ ਪਹੁੰਚਣ ਲਈ ਬੱਸ ਨੇ ਕਿੰਨਾ ਸਮਾਂ ਲਗਾਇਆ ?

8. ਕੋਣ ਮਾਪਕ ਦੀ ਸਹਾਇਤਾ ਨਾਲ ਹੇਠ ਦਿੱਤੇ ਕੋਣ ਬਣਾਓ ।

ੳ) 90°

ਅ) 135°

9. ਤਿਉਹਾਰਾਂ ਮੌਕੇ ਕਿਸੇ ਮਿਠਾਈ ਦੀ ਦੁਕਾਨ ਵਿੱਚ ਇੱਕ ਹਫ਼ਤੇ ਵਿੱਚ ਵਰਤੇ ਗਏ ਦੁੱਧ ਦੀ ਮਾਤਰਾ ਹੇਠਾਂ ਦਿੱਤੇ ਛੜ ਗ੍ਰਾਫ ਅਨੁਸਾਰ ਹੈ :-



ੳ) ਸਭ ਤੋਂ ਵੱਧ ਦੁੱਧ ਕਿਹੜੇ ਦਿਨ ਵਰਤਿਆ ਗਿਆ ?

(1)

ਅ) ਕਿਹੜੇ ਦੋ ਦਿਨਾਂ ਦੌਰਾਨ ਇੱਕੋ ਜਿਹੀ ਮਾਤਰਾ ਵਿੱਚ ਦੁੱਧ ਵਰਤਿਆ ਗਿਆ ਅਤੇ ਕਿੰਨਾ ?

(2)

ੲ) ਐਤਵਾਰ ਨਾਲੋਂ ਮੰਗਲਵਾਰ ਨੂੰ ਕਿੰਨਾ ਘੱਟ ਦੁੱਧ ਵਰਤਿਆ ਗਿਆ ?

(2)

10. ਸੁੰਦਰ ਲਿਖਾਈ

(5 ਅੰਕ)